

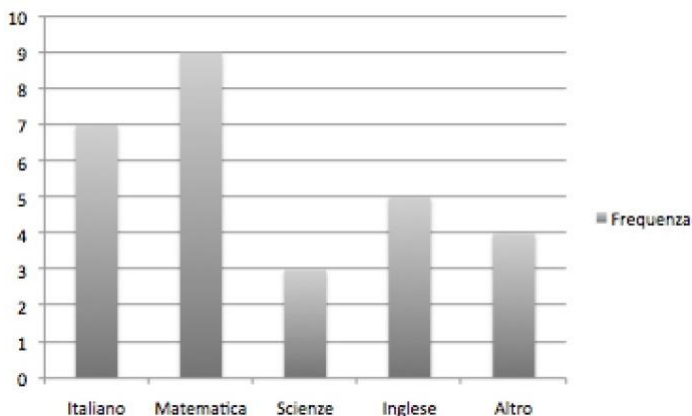
Tabelle e diagrammi a colonne. Verifica

A. Gli studenti di una classe hanno risposto alla domanda: *‘Qual è per te la materia più difficile?’* Le risposte sono rappresentate nel diagramma a colonne qui sotto.

Rispondi ai seguenti quesiti:

1. Riempi la tabella a fianco del diagramma.
2. Quanti studenti hanno risposto al questionario? _____

Materia difficile



Materia difficile	Frequenza
Italiano	
Matematica	
Scienze	
Inglese	
Altro	
<i>Totale</i>	

B. Un produttore di biciclette propone al sindaco di una città di sperimentare per un periodo di 4 mesi un'attività di affitto di biciclette. Alla fine del periodo il sindaco e il produttore esaminano con grafico gli esiti dell'attività.

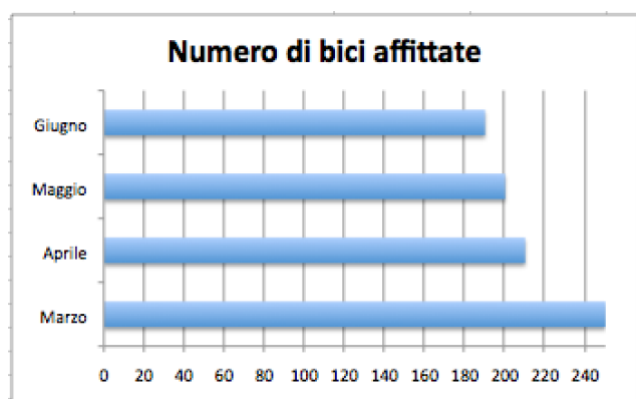


Grafico 1

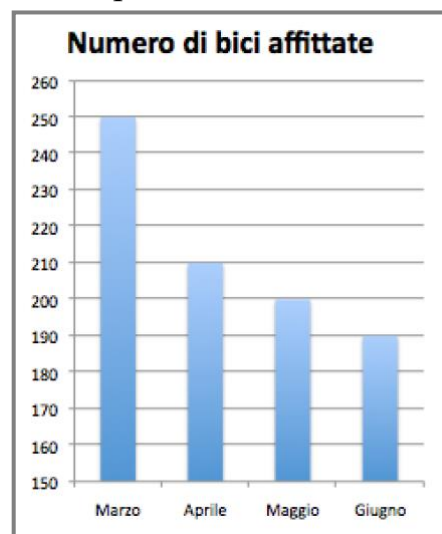


Grafico 2

1. Completa la tabella qui sotto, a partire dal grafico 1
2. I due grafici rappresentano la stessa tabella? Sì No
3. Quale grafico esalta la diminuzione di affitti?
4. Quale grafico prende anche il nome di *‘diagramma a barre’*?

Mese	Numero di bici affittate
Marzo	
Aprile	
Maggio	
Giugno	